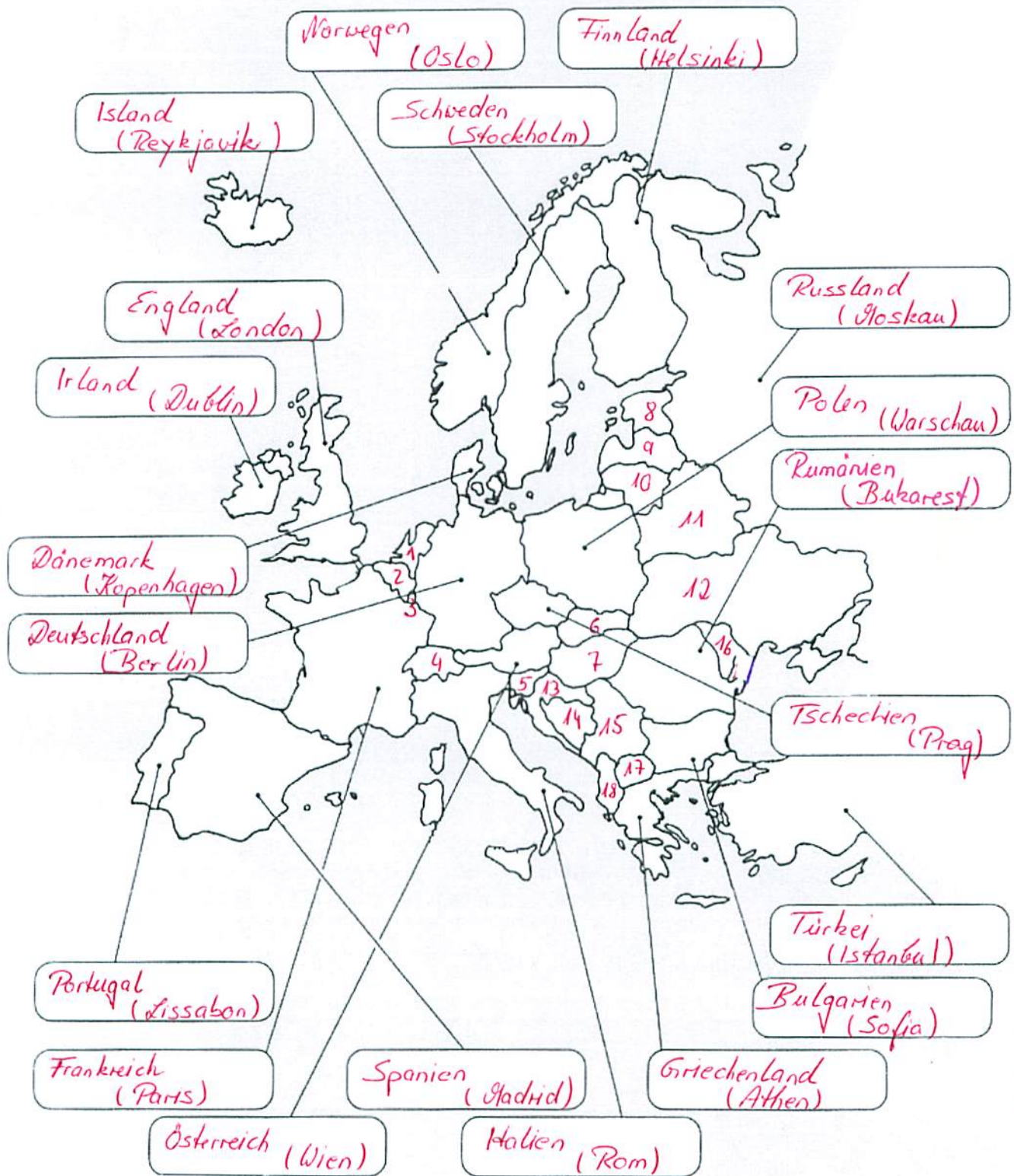


# (Einige) Länder Europas




- 1.) Wie heißen diese Länder? Schreibe den Namen in die Felder. (Hilfe: Atlas!)
- 2.) Erstelle auf einem extra Blatt eine Tabelle:

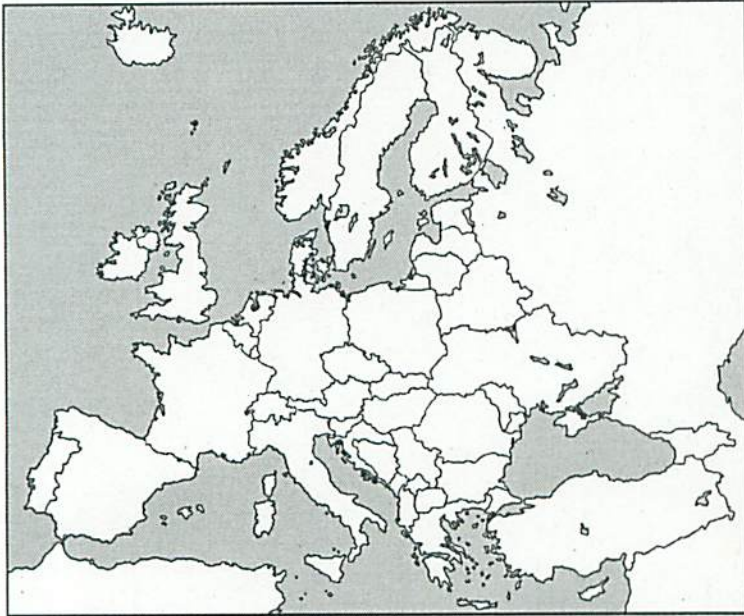
Name des Landes	Hauptstadt
Deutschland	Berlin
Frankreich	...

- 3.) Einige Länder in der „Mitte“ Europas fehlen noch. Finde ihren Namen heraus!

- |                             |                           |                           |                                       |
|-----------------------------|---------------------------|---------------------------|---------------------------------------|
| 1.) Niederlande (Amsterdam) | 5.) Slowenien (Ljubljana) | 9.) Lettland (Riga)       | 13.) Kroatien (Zagreb)                |
| 2.) Belgien (Brüssel)       | 6.) Slowakei (Bratislava) | 10.) Litauen (Vilnius)    | 14.) Bosnien & Herzegowina (Sarajevo) |
| 3.) Luxemburg (Luxemburg)   | 7.) Ungarn (Budapest)     | 11.) Weißrussland (Minsk) |                                       |
| 4.) Schweiz (Bern)          | 8.) Estland (Tallinn)     | 12.) Ukraine (Kiew)       |                                       |

15.) Serbien (Belgrad) 16.) Moldawien (Chisinau)  
 17.) Mazedonien (Skopje) 18.) Albanien (Tirana)

Name: <i>Lösungen!</i>	Datum:	
<b>Der Kontinent Europa</b>		



Europa bildet zusammen mit Asien den Doppelkontinent Eurasien. Eurasien ist die größte zusammenhängende Landmasse der Erde.

Von drei Seiten ist Europa durch Meere begrenzt: Im Norden durch das Europäische Nordmeer, im Westen durch den Atlantischen Ozean, im Süden durch das Mittelmeer und das Schwarze Meer. Weiterhin sind die Nordsee und Ostsee zwei „kleinere“ Nebenmeere. Europa ist ein sehr vielfältiger Kontinent. Es gibt Tiefländer, Mittelgebirge und sogar Hochgebirge. Der höchste

Berg Europas ist der Montblanc. Er liegt in Frankreich und ist 4807 m hoch.

Die längsten Flüsse Europas sind Wolga (3530 km), Donau (2850 km) und Dnjepr (2280 km). Wolga und Dnjepr entspringen in Russland. Die Donau entspringt im Süden Deutschlands bei Donaueschingen.

Es gibt drei Länder, die sowohl in Europa als auch in Asien liegen. Dies sind Russland, die Türkei und Kasachstan. Gemessen an ihrer Gesamtfläche haben diese Länder aber nur einen kleinen Anteil an Europa.

1. Schreibe zuerst die Fragen (a–d) ab. Beantworte sie dann in einem vollständigen Satz.

- a. Was ist Eurasien?
- b. Wie heißt der Ozean, der an Europa grenzt?
- c. Wie heißt der höchste Berg Europas?
- d. Nenne die beiden Meere im Süden Europas.

} im Text unterstrichen!

2. Unterstreiche alle Namenwörter (Nomen) blau.

Schreibe sie in dein Heft und trenne jedes Namenwort in möglichst viele Silben.  
Beispiel: Eu – ro – pa

3. Unterstreiche alle Eigenschaftswörter (Adjektive) gelb.

Schreibe sie in dein Heft und steigere sie, soweit dies möglich ist.  
Beispiel: kurz – kürzer – am kürzesten

4. Unterstreiche alle Tätigkeitswörter (Verben) rot. Suche dir dann fünf Tätigkeitswörter aus und beuge sie in allen Personalformen (ich, du, er/sie/es, wir, ihr, sie).


Beispiel: ich gehe, du gehst, er/sie/es geht, wir gehen, ihr geht, sie gehen

→ Alle Antworten sind im Text farbig markiert!  
→ Den Rest schaffst du dann sicherlich alleine!

! zusammen!

} im Text anstreichen!

! alle Antworten sind im Text farbig markiert!  
! den Text abflutet da dann schneller alle...

Name: <i>Lösungen!</i>	Datum: <i>1. September</i>	
<b>Europäische Länder am Mittelmeer</b>		

Wenn man sich Landkarten von Europa ansieht, fällt einem sofort auf, dass der Kontinent an drei Seiten von Meeren umgeben ist. So liegen im Süden von Europa zum Beispiel das Mittelmeer und das Schwarze Meer.



Nimm einen Atlas zu Hilfe.

1. Finde alle europäischen Länder heraus, die an das Mittelmeer grenzen. Es sind dreizehn.

Zwei Länder seien hier schon genannt, da sie nur einen ganz kleinen Küstenanteil von wenigen Kilometern besitzen. Es sind **Monaco** und **Bosnien-Herzegowina**.

*Spanien, Frankreich, Italien, Malta, Slovenien, Kroatien, Montenegro, Albanien, Griechenland, Türkei, Zypern + Monaco, Bosnien-Herzegowina*

2. Finde alle europäischen Länder heraus, die am Schwarzen Meer liegen. Es sind fünf.


*Bulgarien, Rumänien, Ukraine, Russland, Türkei*

**Zusatzaufgabe:**

Das Mittelmeer liegt zwischen Europa, Afrika und Asien. Finde heraus, welche afrikanischen Länder und welche asiatischen Länder am Mittelmeer liegen.

Afrika (fünf Länder): *Marokko, Algerien, Tunesien, Libyen, Ägypten*

Asien (vier Länder): *Israel, Libanon, Syrien, Türkei*

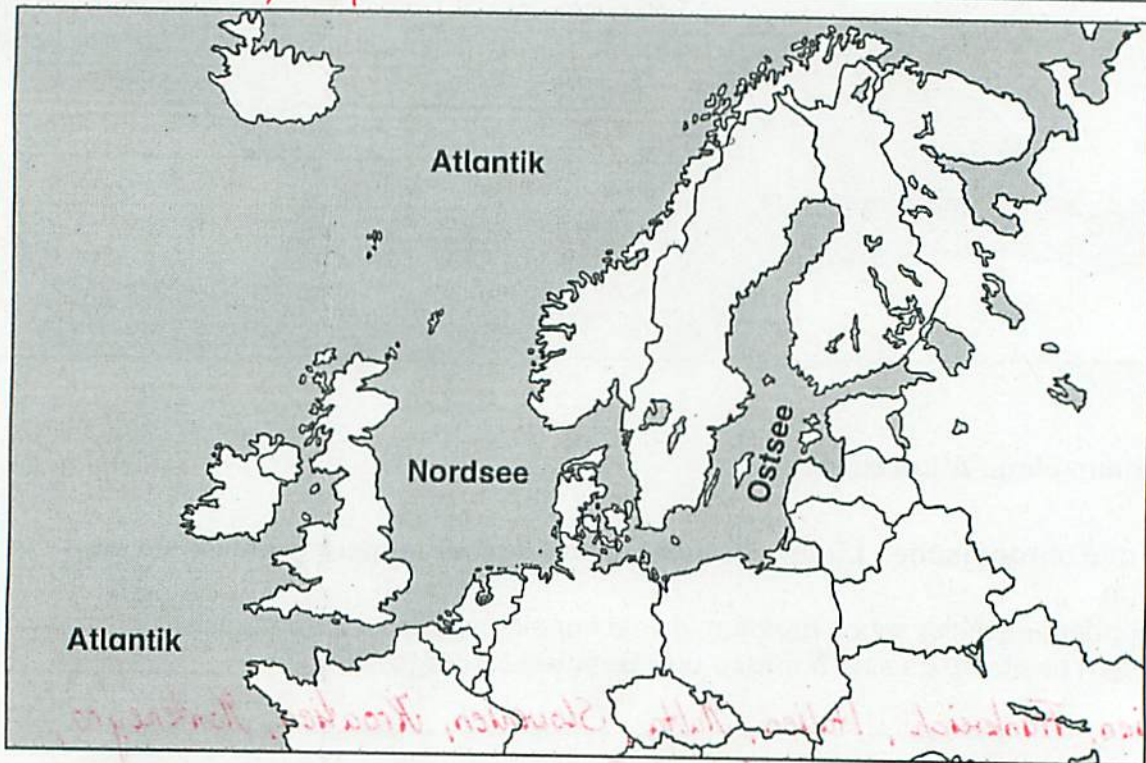
Name: <u>Lösungen!</u>	Datum: <u>11.03.20</u>	
Europäische Länder am Atlantik, an der Nordsee und Ostsee		



Nimm einen Atlas zu Hilfe.

1. Finde die drei europäischen Länder heraus, die Inseln im Atlantik sind.

Island, Irland, Großbritannien



Zum Atlantik gehören die Nordsee und die Ostsee. Sie sind sozusagen „Nebenmeere“ des Atlantiks. Du wirst staunen, wie viele Länder einen Zugang zur Nordsee beziehungsweise Ostsee haben.

2. Schreibe alle europäischen Länder auf, die an die Nordsee grenzen. Es sind sieben.

Frankreich, Belgien, Niederlande, Deutschland, Dänemark, Großbritannien, Norwegen


3. Schreibe alle europäischen Länder auf, die an die Ostsee grenzen. Es sind neun.

Schweden, Finnland, Estland, Lettland, Litauen, Russland, Polen, Deutschland, Dänemark

#### Zusatzaufgabe:

Es gibt 15 europäische Staaten, die überhaupt keinen Zugang zu einem Meer haben. Kannst du sie alle herausfinden?

Schweiz, Österreich, Tschechien, Slowakei, Ungarn, Serbien, Mazedonien, Kosovo, Liechtenstein, Andorra, Weißrussland, Moldau, San Marino, Vatikanstadt, Luxemburg

Name: <i>Lösungen!</i>	Datum:	
„Zwergstaaten“ in Europa		

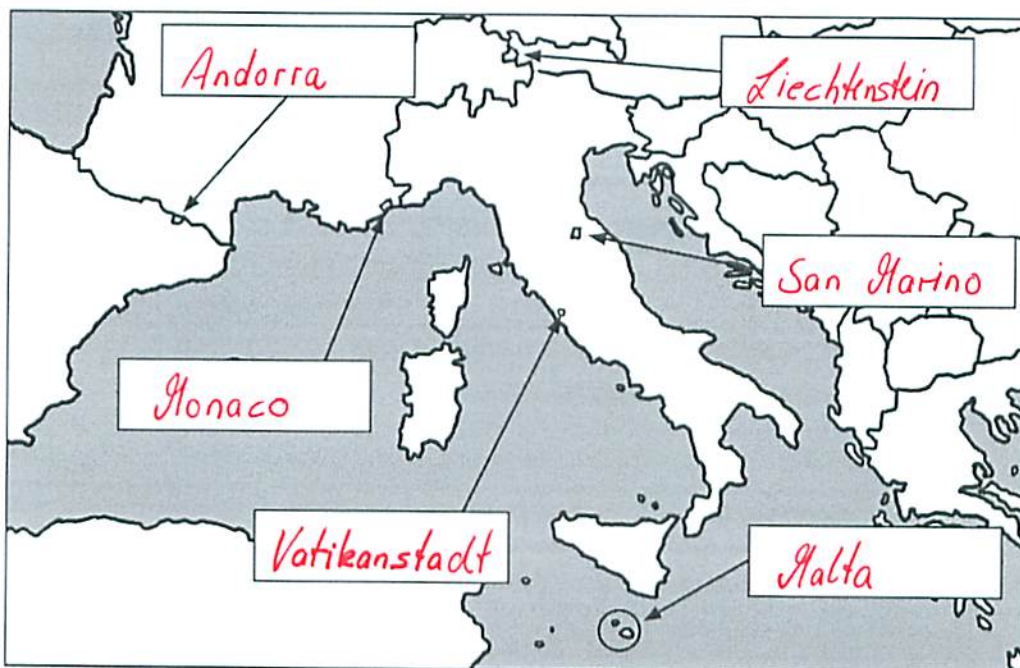
Es ist erstaunlich. Es gibt in Europa einige Staaten, die sind kleiner als manche deutsche Großstadt.



Nimm einen Atlas zu Hilfe.

1. Trage die Namen der „Zwergstaaten“ aus dem Kasten richtig in die Karte unten ein.

Andorra • San Marino • Liechtenstein • Monaco • Vatikanstadt • Malta



2. Finde mithilfe der Länderinfokarten oder mithilfe eines Atlas die Fläche und Bevölkerungszahl der „Zwergstaaten“ heraus.

Name des Landes	Fläche	Bevölkerung
Vatikanstadt	<i>0,44 km<sup>2</sup></i>	<i>700</i>
Monaco	<i>2 km<sup>2</sup></i>	<i>38.000</i>
San Marino	<i>61 km<sup>2</sup></i>	<i>33.000</i>
Liechtenstein	<i>160 km<sup>2</sup></i>	<i>37.000</i>
Malta	<i>316 km<sup>2</sup></i>	<i>430.000</i>
Andorra	<i>468 km<sup>2</sup></i>	<i>77.000</i>
Zum Vergleich: München	<i>310,43 km<sup>2</sup></i>	<i>1.330.000 Einwohner</i>

*Die Anzahl der Einwohner ändert sich natürlich immer. Deswegen könnt ihr auch leicht andere, aber ähnliche Zahlen gefunden haben. Das ist natürlich in Ordnung!*

10/10/20

10/10/20

10/10/20

10/10/20

10/10/20

10/10/20

10/10/20

10/10/20

10/10/20

10/10/20

10/10/20

10/10/20

10/10/20

10/10/20

10/10/20


10/10/20

10/10/20

10/10/20

10/10/20

10/10/20  
10/10/20  
10/10/20  
10/10/20  
10/10/20

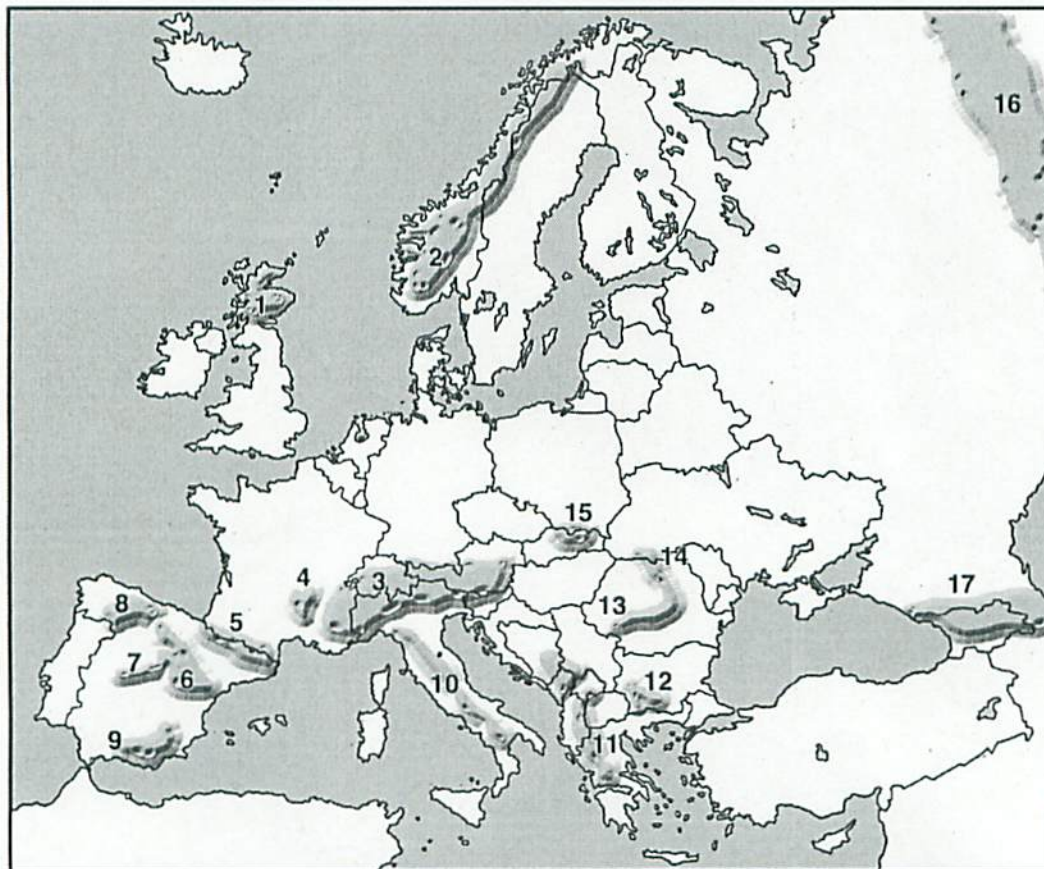
Name:	Datum:	
<b>Gebirge Europas</b> <i>Lösung!</i>		

Es gibt zahlreiche Mittelgebirge und Hochgebirge in Europa. Während die Mittelgebirge eine Höhe zwischen 250 bis 1500 m aufweisen, reichen die Höhen der Hochgebirge deutlich darüber hinaus. Auf der Karte unten sind die wichtigsten Gebirge Europas verzeichnet.




Nimm einen Atlas zu Hilfe.

**Aufgabe:** Finde die Namen der nummerierten Gebirge (1–17) heraus.



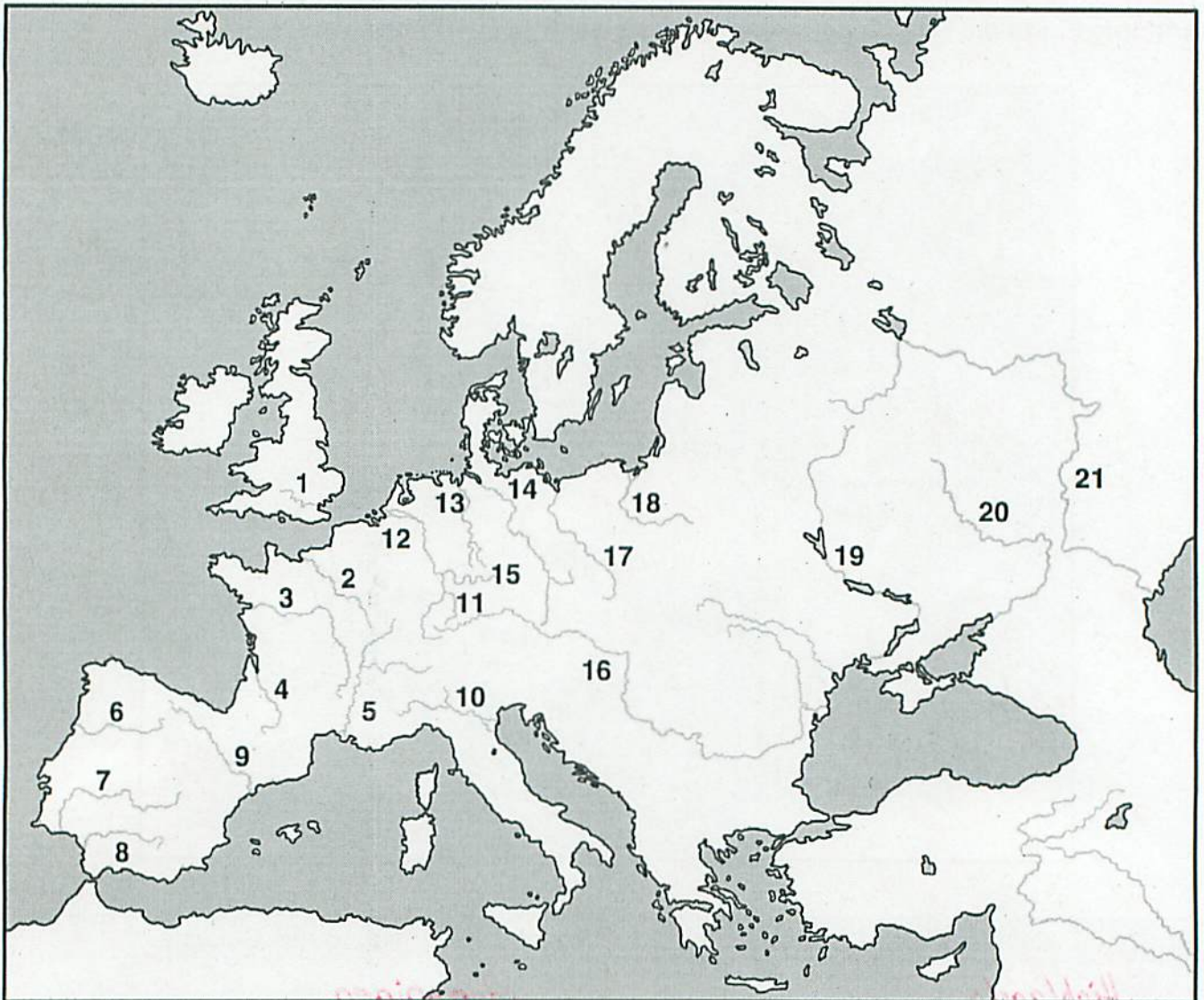
Nr.	Name des Gebirges	Nr.	Name des Gebirges
1	<i>Highlands</i>	10	<i>Apenninen</i>
2	<i>Skandinavisches Gebirge</i>	11	<i>Dinarisches Gebirge</i>
3	<i>Alpen</i>	12	<i>Rhodopen</i>
4	<i>Zentralmassiv</i>	13	<i>Südkarpaten</i>
5	<i>Pyrenäen</i>	14	<i>Ostkarpaten</i>
6	<i>Iberisches Randgebirge</i>	15	<i>Westkarpaten</i>
7	<i>Kastilisches Scheidegebirge</i>	16	<i>Ural</i>
8	<i>Kantabrisches Gebirge</i>	17	<i>Kaukasus</i>
9	<i>Sierra Nevada</i>		



Name:	Datum:	
<b>Flüsse Europas</b>		


In Europa gibt es viele Flüsse. Sie entspringen größtenteils in Gebirgen, zum Beispiel in den Alpen, den Pyrenäen oder anderen Mittelgebirgen.

Die Flüsse Europas sind nicht so lang wie die anderer Kontinente, zum Beispiel Afrikas. Trotzdem sind sie sehr wichtig sowohl für die Wasserversorgung als auch als Transportwege für Schiffe.



Nimm einen Atlas zu Hilfe.


1. Trage die Namen der Flüsse (1–21) richtig in die Tabelle ein.
2. Finde zusätzlich heraus, in welches Meer (oder größeren Fluss) sie münden und in welchem Land sie hauptsächlich fließen.

Name: <i>Lösungen!</i>	Datum:	
<b>Flüsse Europas</b>		

Nr.	Flussname	mündet in ...	fließt hauptsächlich durch...
1	<i>Themse</i>	<i>Nordsee</i>	<i>Großbritannien</i>
2	<i>Seine</i>	<i>Ärmelkanal (Nordsee)</i>	<i>Frankreich</i>
3	<i>Loire</i>	<i>Atlantik</i>	<i>Frankreich</i>
4	<i>Garonne</i>	<i>Atlantik</i>	<i>Frankreich</i>
5	<i>Rhone</i>	<i>Mittelmeer</i>	<i>Frankreich</i>
6	<i>Douro / Duero</i>	<i>Atlantik</i>	<i>Portugal / Spanien</i>
7	<i>Tejo / Tago</i>	<i>Atlantik</i>	<i>Spanien / Portugal</i>
8	<i>Guadalquivir</i>	<i>Atlantik</i>	<i>Spanien</i>
9	<i>Ebro</i>	<i>Mittelmeer</i>	<i>Spanien</i>
10	<i>Po</i>	<i>Adria (Mittelmeer)</i>	<i>Italien</i>
11	<i>Neckar</i>	<i>Rhein</i>	<i>Deutschland</i>
12	<i>Rhein</i>	<i>Nordsee</i>	<i>Deutschland</i>
13	<i>Weser</i>	<i>Nordsee</i>	<i>Deutschland</i>
14	<i>Elbe</i>	<i>Nordsee</i>	<i>Deutschland</i>
15	<i>Main</i>	<i>Rhein</i>	<i>Deutschland</i>
16	<i>Donau</i>	<i>Schwarzes Meer</i>	<i>Österreich / Ungarn / Rumänien</i>
17	<i>Oder</i>	<i>Ostsee</i>	<i>Polen</i>
18	<i>Weichsel</i>	<i>Ostsee</i>	<i>Polen</i>
19	<i>Dnipro</i>	<i>Schwarzes Meer</i>	<i>Ukraine</i>
20	<i>Don</i>	<i>Schwarzes Meer</i>	<i>Russland</i>
21	<i>Wolga</i>	<i>Kaspisches Meer</i>	<i>Russland</i>

Los angeles!

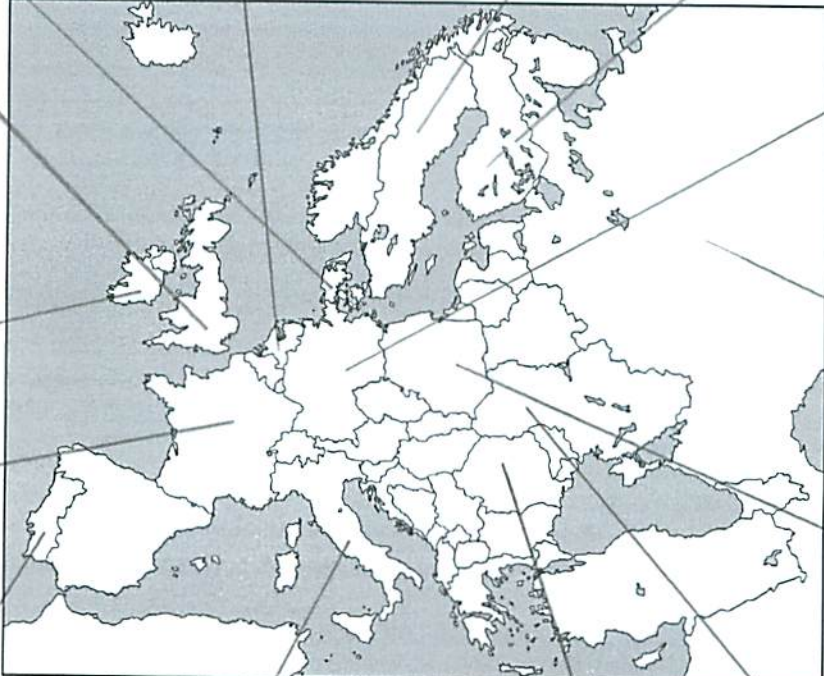
Frankreich	Amthaus (Holland)	Paris
Frankreich	Amthaus	Paris
Frankreich	Amthaus	Paris
Frankreich	Mittmeer	Paris
Frankreich / Spanien	Amthaus	Paris / Brno
Spanien / Portugal	Amthaus	Paris / Lissabon
Spanien	Amthaus	Paris
Spanien	Mittmeer	Paris
Italien	Amthaus (Mittmeer)	Paris
Italien	Rhein	Paris
Italien	Holland	Paris
Italien	Holland	Paris
Italien	Holland	Paris
Italien	Holland	Paris
Italien	Rhein	Paris
Italien / England / Spanien	Schweiz / Rhein	Paris
Italien	Schweiz	Paris
Italien	Schweiz	Paris
Italien	Schweiz / Rhein	Paris
Italien	Schweiz / Rhein	Paris

Name:	Datum:	
<b>Die Länder Europas – Flaggen</b>		

1. Male die Flaggen in den richtigen Farben aus.

Tip: Nimm die Länderinfokarten für Europa zu Hilfe oder schau unter [www.flaggenwelt.de](http://www.flaggenwelt.de) nach.

2. Verbinde jede Flagge mit dem dazugehörigen Land.



Dänemark

Niederlande

Schweden

Finnland

Großbritannien

Irland

Frankreich

Portugal

Italien

Rumänien

Ukraine

Deutschland

Russland

Polen